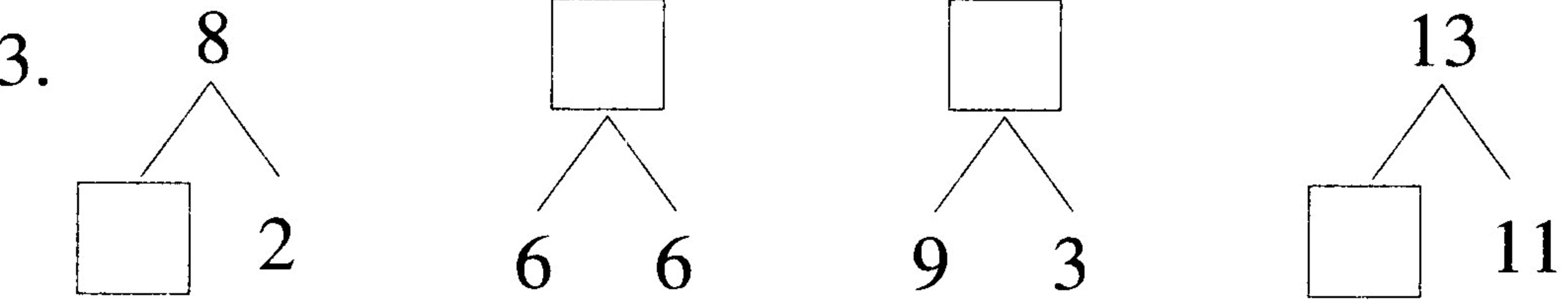
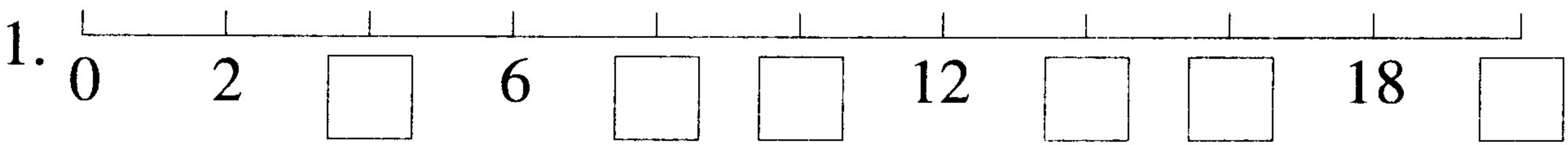


普通卷（二）


(时间:60分钟 满分:100分)

题号	一	二	三	四	五	六	七	附加题	总分
得分									

一、填一填。(28分)



4. 与 19 相邻的两个数是 () 和 ()。
5. 正方体有 () 个面。
6. 最大的一位数是 ()，最小的两位数是 ()，它们的和是 ()。



- (1) 马在熊猫的 () 面，鸡在羊的 () 边。
- (2) 猫的 () 边是狗，() 面是羊。

8. \triangle \square \square \bigcirc \triangle \bigcirc \square \bigcirc \triangle \triangle

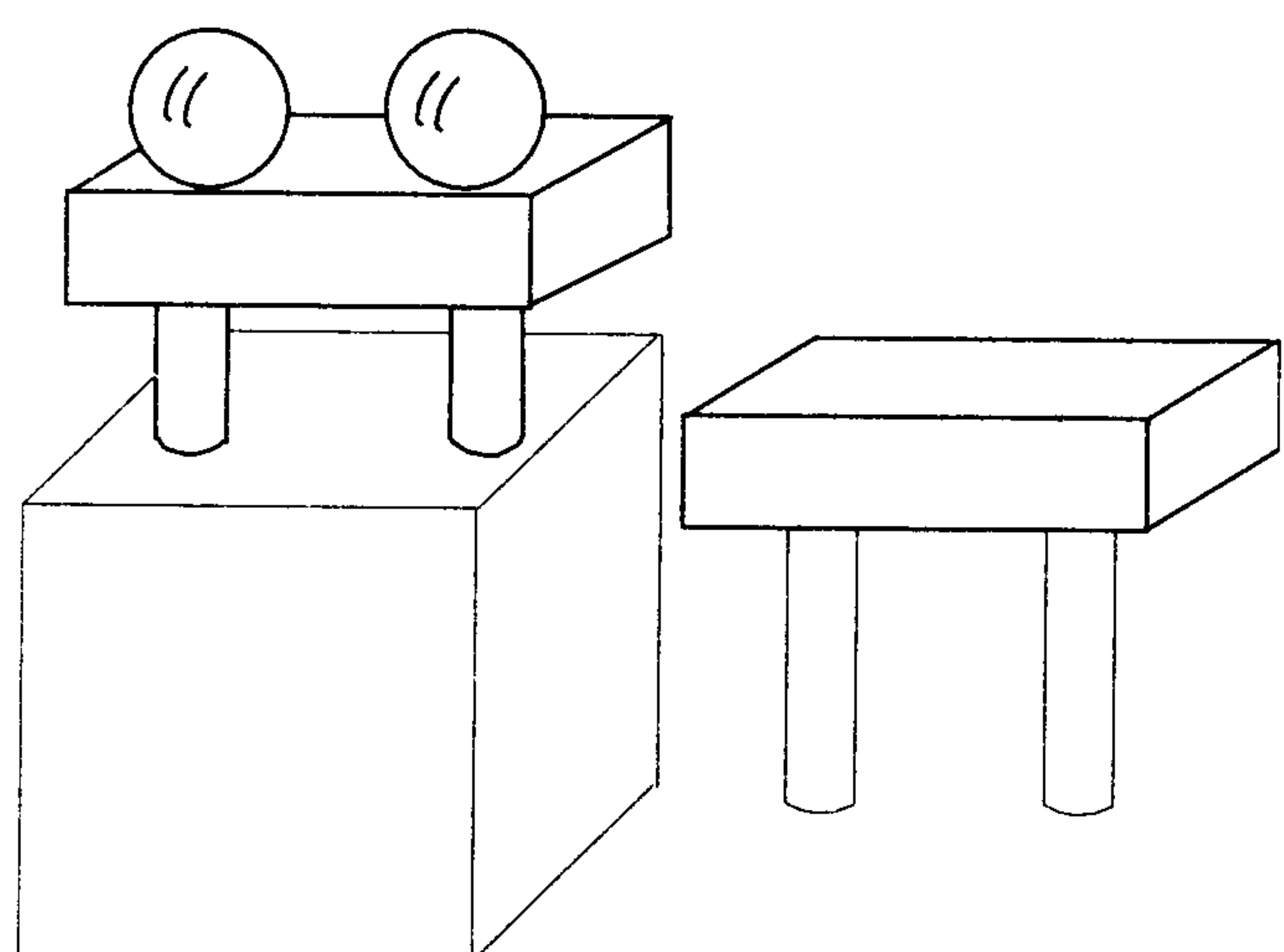
(1) 一共有 () 个图形。

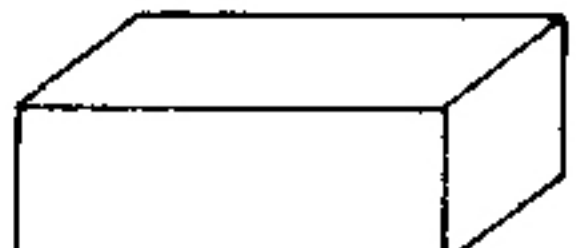
(2) \square 的左边有 () 个图形, 右边有 () 个图形。


(3) 从左边数, 给第 1 个和第 4 个图形涂上颜色。

(4) 把最右边的 3 个图形圈起来。

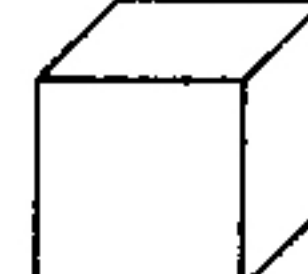
二、数一数。(8 分)



有 () 个 

有 () 个 

有 () 个 

有 () 个 

三、判断。(8 分)

1. 比 15 大而比 17 小的数是 18。 ()

2. 比 3 小的数只有 2 和 1 两个。 ()

3. 9 时过 1 小时, 是 10 时。 ()

4. 比 20 少 1 的数是 19。 ()

四、计算。(21 分)

1. 直接写得数。(12 分)

$10 - 7 =$

$8 + 8 =$

$9 + 6 =$

$7 + 6 =$

$12 + 3 =$

$14 - 7 =$

$8 + 9 =$

$16 - 0 =$

$9 + 3 + 2 =$

$4 + 3 - 2 =$

$7 - 4 + 11 =$

$8 + 9 - 7 =$

2. 在括号里填上合适的数。(9分)

$11 + () = 19$

$8 + () = 11$

$7 + () = 13$

$() - 7 = 3$

$19 - () = 14$

$16 - () = 13$

$8 + 9 - () = 10$

$7 + () + 3 = 14$

$11 - () + 3 = 4$

五、在○里填上“>”“<”或“=”。(9分)

$7 + 9 \bigcirc 17$

$5 + 8 \bigcirc 13$

$13 \bigcirc 6 + 6$

$10 + 7 \bigcirc 17$

$10 - 5 \bigcirc 6$

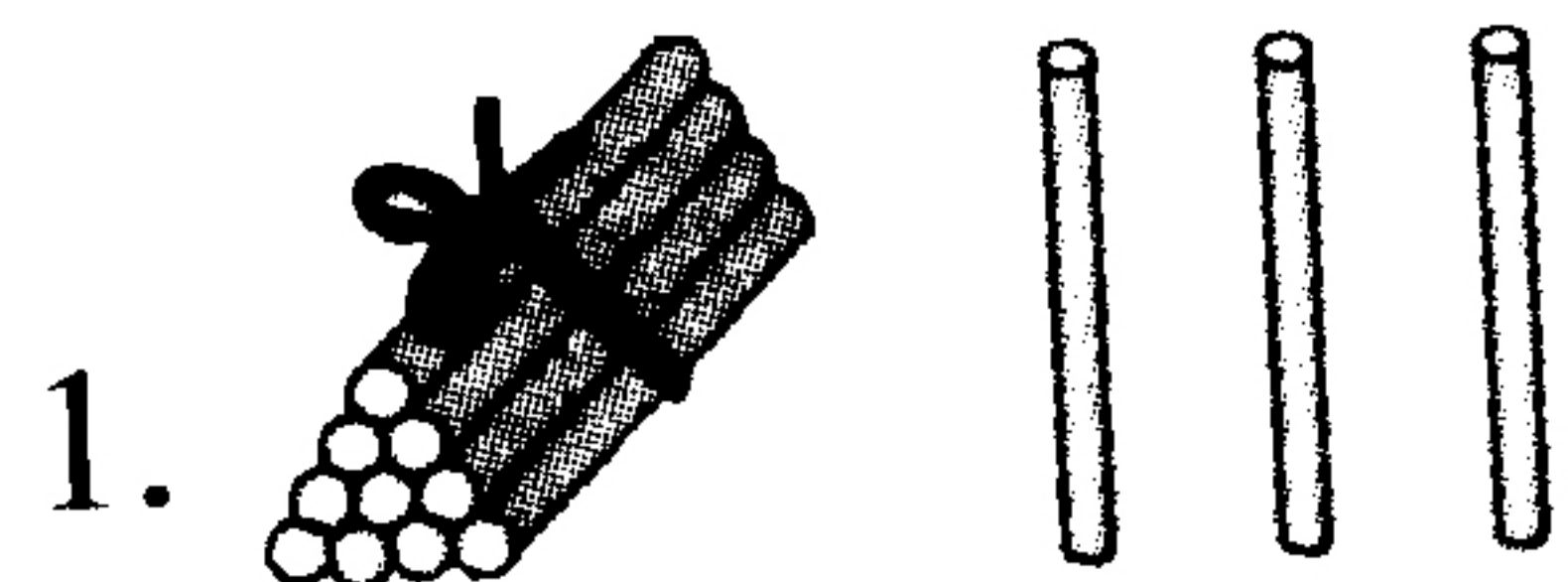
$9 + 4 \bigcirc 12$

$4 + 9 \bigcirc 7 + 5$

$8 + 8 \bigcirc 10 + 6$

$14 - 3 \bigcirc 6 + 7$


六、看图列式计算。(15分)



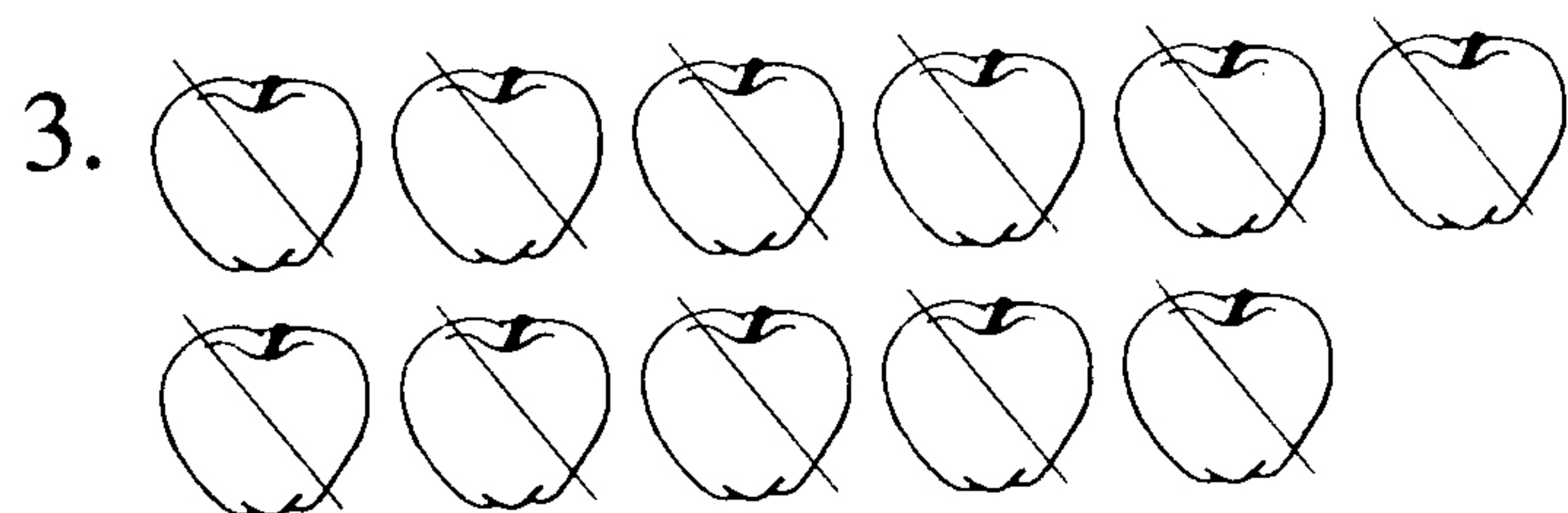
$\square + \square = \square$

$\square - \square = \square$

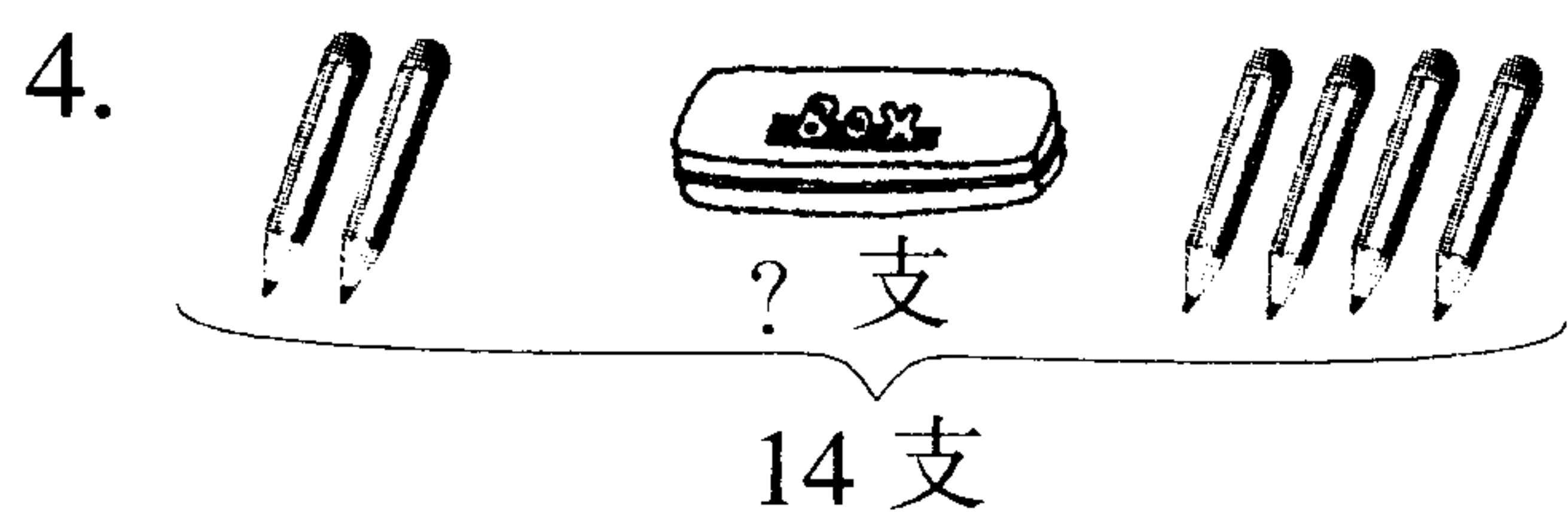
$\square - \square = \square$



$\square \bigcirc \square = \square \text{ (个)}$



$\square \bigcirc \square = \square$



$$\square \bigcirc \square \bigcirc \square = \square \text{ (支)}$$

七、解决问题。(11 分)

1. 滑冰场原来有 9 人在滑冰，现在又来了一家三口来滑冰，现在一共有多少人在滑冰？

2. 小明做了 2 页计算题。第 1 页做错了 5 道，第 2 页做错了 7 道。小明一共做错了多少道计算题？

附加题。(10 分)

三个小朋友比大小。请你根据以下两句话猜一猜，谁最大，谁最小？

1. 芳芳比阳阳大 3 岁；
2. 燕燕比芳芳小 1 岁。